

METODA SEČICE I REGULA FALSI

Zadatak: Naći nulu funkcije f na intervalu (a,b) , odnosno naći x za koje je $f(x)=0$.

Rešenje: Prvo, tražimo interval (a,b) na kome je funkcija neprekidna, monotona i važi: $f(a)f(b)<0$. Poželjno je da interval (a,b) bude, što je moguće manji.

Proizvoljno biramo tačku x_F (iz intervala (a,b)): // česta je situacija da su $x_0 = a$ i $x_F = b$
Koristimo formulu:

$$x_{n+1} = x_n - \frac{f(x_n)}{f(x_F) - f(x_n)}(x_F - x_n) \quad \text{METODA REGULA FALSI}$$

Ili formulu

$$x_{n+1} = x_n - \frac{f(x_n)}{f(x_{n-1}) - f(x_n)}(x_{n-1} - x_n) \quad \text{METODA SEČICE}$$

Kod metode sečice se obično uzima da su $x_0 = a, x_1 = b$

Niz tačaka $x_1, x_2, \dots, x_k, \dots$ konvergira ka rešenju x^* , $f(x^*)=0$.

OCENA GREŠKE

$$|x_{n+1} - x^*| \leq \frac{M_1 - m_1}{m_1} |x_{n+1} - x_n|$$

$$M_1 = \max_{[a,b]} |f'(x)|$$

$$m_1 = \min_{[a,b]} |f'(x)|$$

KRITERIJUM ZAUSTAVLJANJA

$$|x_n - x_{n-1}| \leq \frac{m_1}{M_1 - m_1} \varepsilon = r$$

Zadatak br1. Metodom *REGULA FALSI* odrediti sa tačnošću $\frac{1}{2}10^{-5}$ sva rešenja jednačine: $e^x - 2(x-1)^2 = 0$

Rešenje:

Analiziramo funkciju $f(x)$. Zanima nas da li je funkcija monotona, da li raste/opada, da li je konveksna/konkavna..

$$f(x) = e^x - 2(x-1)^2 = 0$$

$$f'(x) = e^x - 4(x-1)$$

$$f''(x) = e^x - 4$$

$$f''(x) = 0 \Rightarrow e^x - 4 = 0 \Rightarrow x = \ln 4 \text{ prevojna tačka.}$$

$$x \in (-\infty, \ln 4) \Rightarrow f'' < 0 \Rightarrow f' \text{ opada za } x \in (-\infty, \ln 4)$$

$$x \in (\ln 4, \infty) \Rightarrow f'' > 0 \Rightarrow f' \text{ raste za } x \in (\ln 4, \infty)$$

funkcija je neprekidna, opada do $x = \ln 4$ i raste od $x = \ln 4$, a kako je $f'(\ln 4) = 8(1 - \ln 2) = 2.4548 > 0$ zaključujemo da je $f' > 0$ za svako x

$$\begin{aligned} f(-\infty) < 0 \\ f(+\infty) > 0 \end{aligned} \quad \text{i} \quad f \text{ raste na } (-\infty, +\infty) \Rightarrow \exists! \text{nula}$$

Dakle, uslovi su ispunjeni (nula funkcije postoji), ostalo je još da lociramo gde se ta nula nalazi. Jedan način za rešavanje je da nacrtamo grafike funkcija $e^x, 2(x-1)^2$ i da odredimo presečnu tačku.

Sa grafika vidimo da presek postoji i da je negde između (0, 0.5). Ovaj interval uzimamo za početni interval (a,b)

Biramo tačke $x_F = 0.3$

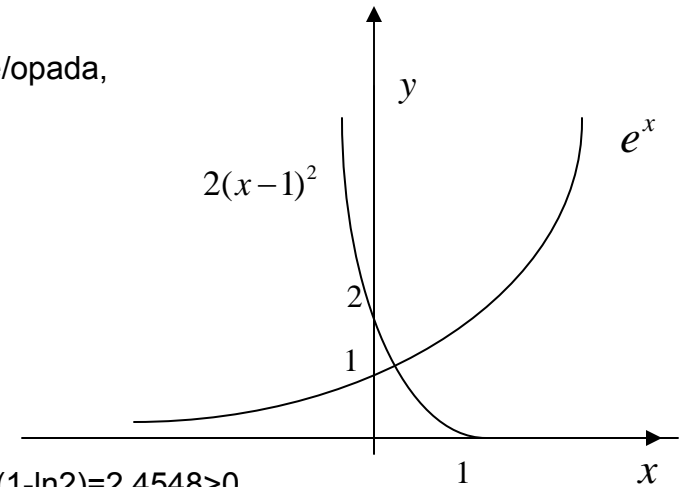
$$x_0 = 0.2$$

Kriterijum zaustavljanja je

$$M_1 = \max_{[0,0.5]} |f'(x)| = f'(0) = 5$$

$$m_1 = \min_{[0,0.5]} |f'(x)| = f'(0.5) = 3.65$$

$$|x_n - x_{n-1}| \leq \frac{3.65}{5 - 3.65} \frac{1}{2} 10^{-5} \approx 1.4 * 10^{-5}$$



Radi bolje preglednosti, račun predstavljamo tablično:

br iteracije	x	f(x)
X _F	0.3	0.369859
0	0.2	-0.058597
1	0.213676	0.001612
2	0.212993	-0.001386
3	0.213317	0.000038
4	0.213308	-0.000001

Dakle, u četvrtoj iteraciji dobili smo nulu funkcije f
 $x^*=0.2133$

Računali smo na 6 decimala, kriteriju zaustavljanja je ispunjen

$$|x_4 - x_3| = 0.000009$$

Zadatak br2. Metodom *SEČICE* sa tačnošću 10^{-5} naći sva pozitivna rešenja jednačine

$$\sin x = x^2 - 1$$

Pokušaćemo da lociramo tačno rešenje. Pokušaćemo grafički da pronađemo nulu ove funkcije!
 Nula pripada intervalu (0,3.14). Funkcija je neprekidna na R.

$$f(x) = \cos x - 2x \quad f'(x) = -\sin x - 2 < 0 \text{ za svako } x \text{ (konkavna)}$$

Kako bi izbegli veliki broj iteracija, pokušaćemo da smanjimo interval:

$$f(0.5) = 1.2294255$$

$$f(1) = 0.8414710$$

$$f(1.5) = -0.2525050$$

$$\begin{aligned} \text{Nulu tražimo u intervalu } (1, 1.5) \quad x_0 &= 1 \\ x_1 &= 1.5 \end{aligned}$$

Radi bolje preglednosti, zadatak rešavamo tablično. Obzirom da je data tačnost, radićemo sa 7 decimala (zbog deljenja).

br iteracije	x	f(x)
0	1.0000000	0.8414710
1	1.5000000	-0.2525050
2	1.3845930	0.0656165
3	1.4083971	0.0032598
4	1.4096415	-0.0000465
5	1.4096240	0.0000000
6	1.4096240	0.0000000

Dakle, nula funkcije je $x^*=1.40962$

NJUTNOVA METODA (METODA TANGENTE)

Ova metoda je najpoznatija.

Brže konvergira od prehodne ali ima više uslova.

Zadatak: Naći nulu funkcije f na intervalu (a,b) , odnosno naći x za koje je $f(x)=0$.

Dovoljni uslovi konvergencije:

1. Naći interval (a,b) takav da je $f(a)f(b)<0$
2. $f'(x) \neq 0$ na (a,b)
3. $f''(x)$ ne menja znak na (a,b)
4. Pronaći početnu tačku x_0 na (a,b) za koju je $f(x_0)f''(x_0) > 0$

Dakle, početni vektor biramo proizvoljno ali tako da važi uslov 4..

Proveravamo da li je funkcija:

monotna,

da li je $f(a)f(b)<0$ (dokaz da je rešenje unutar tog intervala)

da li drugi izvod ne menja znak (svuda je funkcija ili konveksna ili konkavna) a zatim, koristimo formulu:

$$x_{n+1} = x_n - \frac{f(x_n)}{f'(x_n)}$$

Koristeći gore navadenu formulu dobijamo niz tačaka $x_1, x_2, \dots, x_k, \dots$ koji konvergira ka rešenju x^* , $f(x^*)=0$.

$$\text{OCENA GREŠKE} \quad |x^* - x_n| \leq \frac{M_2}{2m_1} |x_n - x_{n-1}| \quad \begin{aligned} M_2 &= \max_{[a,b]} |f''(x)| \\ m_1 &= \min_{[a,b]} |f'(x)| \end{aligned}$$

KRITERIJUM ZAUSTAVLJANJA

$$|x_n - x_{n-1}| \leq \sqrt{\frac{2m_1 \varepsilon}{M_2}} = r$$

Zadatak br3. Njutnovom metodom, sa tačnošću 10^{-5} naći sva rešenja jednačine:

$$e^x + e^{-3x} - 4 = 0$$

$$f(x) = e^x + e^{-3x} - 4$$

Rešenje: Ove funkcije možemo i da nacrtamo grafički i da lociramo nulu funkcije.

Sa grafka vidimo da ova funkcija ima 2 rešenja.

Mi ćemo tražiti pozitivno rešenje (analogno se traži negativno rešenje).

$$f(0) = -2 < 0$$

$$f(1) = -1.2379 < 0$$

$$f(2) = 3.3915 > 0$$

$$\Rightarrow x_1^* \in (1, 2)$$

$$f(1.7) = 1.48$$

$$f''(1.7) < 0$$

Sada proveravamo da li važe uslovi za primenu ove metode:

$$1) \quad f(1)f(2) < 0 \quad \Rightarrow \text{ispunjeno}$$

$$2) \quad f'(x) = e^x - 3e^{-3x} > 0 \quad \text{na}(1, 2) \quad \Rightarrow x_0 = 1.7 \quad f(x_0)f''(x_0) > 0$$

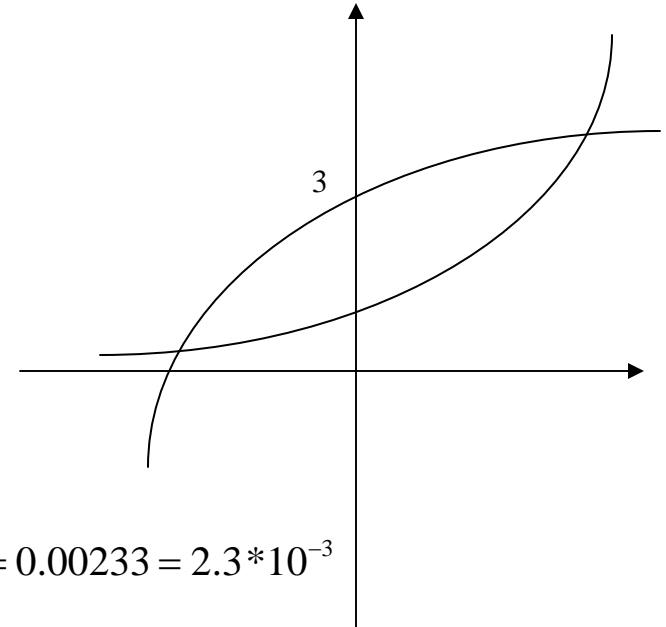
$$3) \quad f''(x) = e^x - 9e^{-3x} > 0 \quad \text{na}(1, 2)$$

Kriterijum zaustavljanja:

$$M_2 = \max_{[1,2]} |f''(x)| = |f''(2)| = 7.4113$$

$$m_1 = \min_{[1,2]} |f'(x)| = |f'(1)| = 2.5689$$

$$|x_n - x_{n-1}| \leq \sqrt{\frac{2 * 2 * 0.00001}{7.36675}} = 0.00233 = 2.3 * 10^{-3}$$



Zadatak rešavamo tablično:

br iteracije	x	f(x)	f'(x)
0	1.7000000	1.4800441	5.4556572
1	1.4287139	0.1870862	4.1320546
2	1.3834371	0.0043467	3.9413086
3	1.3823342	0.0000025	3.9367556
4	1.3823336	0.0000000	3.9367529

$$X^* = 1.38233$$

KOMBINOVANA METODA SEČICE I TANGENTE

Kombinovana metoda se dobija kada se umesto vrednosti x_{n-1} u metodi Sečice koriste vrednosti dobijene Njutnovom metodom, tj.

$$\bar{x}_{n+1} = \bar{x}_n - \frac{f(\bar{x}_n)}{f'(\bar{x}_n)}$$

Važe isti uslovi kao kod Njutnove metode tangente!

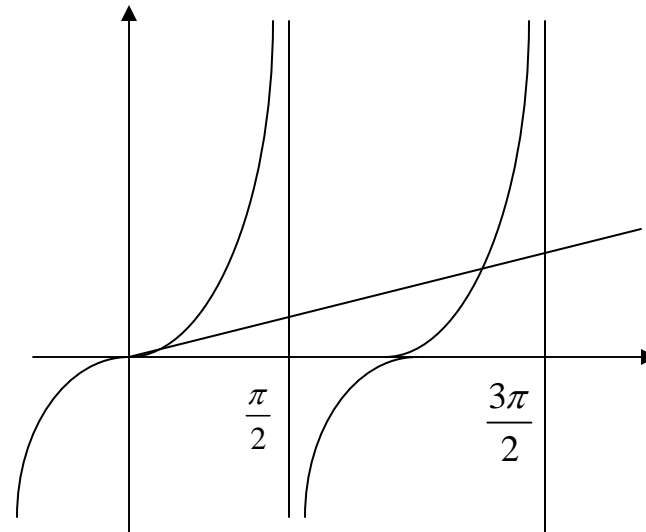
$$x_{n+1} = x_n - \frac{f(x_n)}{f(\bar{x}_n) - f(x_n)} (\bar{x}_n - x_n)$$

Zadatak br4. Kombinovanom metodom odrediti najmanje pozitivno rešenje jednačine $\text{tg}x=x$ sa tačnošću 10^{-5}

Nacrtaćemo grafike funkcija $f(x)=\text{tg}x$ i $g(x)=x$.
U preseku grafika nalaze se nule funkcije.

Najmanje pozitivno rešenje se nalazi na intervalu $(\pi, 3\pi/2)$

Proveravamo da li važe uslovi Njutnove metode:



$$F(x) = \operatorname{tg}x - x$$

$$F(\pi) \approx F(3) = -3.142546$$

$$F_-(3\pi/2) \approx F(4.7) = 76.012763$$

$$M_2 = \max_{[3, 4.7]} |f''(x)| = |f''(4.7)| = 4$$

$$m_1 = \min_{[3, 4.7]} |f'(x)| = |f'(3)| = 0.02032$$

$$|x_n - x_{n-1}| \leq \sqrt{\frac{2 * 0.02032 * 0.0001}{4}} = 1.07 * 10^{-3}$$

$$1) \quad F(3)F(4.7) < 0 \quad \Rightarrow \text{ispunjeno}$$

$$2) \quad F'(x) = \frac{1}{\cos^2 x} - 1 > 0 \quad \text{na}(3, 4.7) \Rightarrow x_0 = 4.5 \quad f(x_0)f''(x_0) > 0$$

$$3) \quad F''(x) = \frac{2 \sin x}{\cos^3 x} > 0 \quad \text{na}(3, 4.7)$$

Zadatak rešavamo tablično:

br iteracije	X (Njutn)	X (metoda secice)	F(x) (Njutn)	F(x) (Secica)	F'(x)
0	4.5000000	3.0000000	0.1373321	-3.1425465	21.5048486
1	4.4936139	4.4371934	0.0041319	-0.8956127	20.2297171
2	4.4934097	4.4933548	0.0000040	-0.0011032	20.1907661
3	4.4934095	4.4934095	0.0000000	0.0000000	20.1907286
4	4.4934095	4.4934095	0.0000000	0.0000000	20.1907286

Dakle, nula funkcije je $x^* = 4.49341$

METODA ITERACIJE I NJENA MODIFIKACIJA

Rešavamo zadatak $f(x)=0$, odnosno tražimo nulu funkcije f

Metodom iteracije se početni zadatak prevodi u sledeći problem: $x = \mathcal{G}(x)$

1. Naći interval $[a,b]$ unutar kojeg se nalazi rešenje
2. $\mathcal{G}(x)$ mora biti kontrakcija, odnosno $|\mathcal{G}'(x)| \leq q < 1$
3. $\mathcal{G}([a,b]) \subset [a,b]$ (ne proveravamo)

OCENA TAČNOSTI GREŠKE:

$$|x^* - x_n| \leq \frac{q^n}{1-q} |x_1 - x_0|$$

$$|x^* - x_n| \leq \frac{q}{1-q} |x_n - x_{n-1}|$$

KRITERIJUM ZAUSTAVLJANJA:

$$|x_n - x_{n-1}| \leq \frac{1-q}{q} \varepsilon$$

Za početno x se uzima proizvoljna tačka iz intervala (a,b)

Zadatak br5 Naći sva rešenja jednačine: $e^{-x} - (x-1)^2 = 0$

Nacrtaćemo grafike ovih funkcija, traženo rešenje nalazi se u preseku grafika funkcija.

Već možemo da pretpostavimo da je jedna nula $x^*=0$

Tražimo interval za drugu nulu: $F(1) = 0.367879$
 $F(2) = -0.864665$ $x_2^* \in [1, 2]$

Dakle, drugu nulu tražimo na intervalu (1,2)

$$F(x) = e^{-x} - (x-1)^2$$

$$(x-1)^2 = e^{-x} \Rightarrow |x-1| = e^{-1/2x} \Rightarrow x = e^{-1/2x} + 1$$

$$Q(x) = e^{-1/2x} + 1$$

$$Q'(x) = \frac{-1}{2} e^{-1/2x} \Rightarrow |Q'(x)| = \frac{1}{2e^{1/2x}} \leq \frac{1}{2e^{1/2 \cdot 1}} = 0.30327 = q < 1$$

Kriterijum zaustavljanja:

$$r = \frac{1-q}{q} \varepsilon = \frac{1-0.30327}{0.30327} 10^{-4} = 2.3 \cdot 10^{-4}$$

br iteracije	x	x(n)-x(n-1)
0	1.00000	
1	1.60653	0.60653
2	1.44786	0.15867
3	1.48484	0.03698
4	1.47596	0.00888
5	1.47808	0.00212
6	1.47757	0.00051
7	1.47769	0.00012
8	1.47766	0.00003
9	1.47767	0.00001

Zadatak rešavamo tablično radi bolje preglednosti:

$$x_0 = 1$$

$$x_1 = e^{-1/2x_0} + 1$$

$$x_2 = e^{-1/2x_1} + 1$$

Tražena druga nula funkcije je $x^*=1.47767$

Tražimo i treću nulu funkcije:

$$F(-3) = 4.085534$$

$$F(-2) = -1.610944$$

$$x_3^* \in [-3, -2]$$

Ponavljamo postupak (moramo da tražimo novu funkciju Q zato što na intervalu [-4,-3] funkcija Q koju smo malo pre pronašli nije kontrakcija!!):

$$F(x) = e^{-x} - (x-1)^2$$

$$(x-1)^2 = e^{-x} \Rightarrow x-1 = e^{-x/2} \Rightarrow \ln(1-x) = -\frac{x}{2} \Rightarrow x = -2\ln(1-x)$$

$$Q(x) = -2\ln(1-x)$$

$$Q'(x) = \frac{2}{1-x} \Rightarrow |Q'(x)| = \frac{2}{1-x} \leq \frac{2}{1+2} = 2/3 = q < 1$$

Zadatak rešavamo tablično radi bolje preglednosti.

Kriterijum zaustavljanja:

$$r = \frac{1-q}{q} \varepsilon = \frac{1-2/3}{2/3} 10^{-4} = 0.5 * 10^{-4}$$

Poslednja nula je $x^* = -2.51282$

br iteracije	x	x(n)-x(n-1)
0	-2.00000	
1	-2.19722	0.19722
2	-2.32457	0.12734
3	-2.40268	0.07811
4	-2.44913	0.04645
5	-2.47624	0.02712
6	-2.49190	0.01566
7	-2.50089	0.00899
8	-2.50604	0.00514
9	-2.50897	0.00294
10	-2.51065	0.00167
11	-2.51160	0.00095
12	-2.51214	0.00054
13	-2.51245	0.00031
14	-2.51263	0.00018
15	-2.51273	0.00010
16	-2.51279	0.00006
17	-2.51282	0.00003